



# CONCURSO PARA PROVIMENTO DE CARGOS DA PREFEITURA MUNICIPAL DE BOM SUCESSO

## FUNDAMENTAL COMPLETO

Códigos: 101 a 105

### LEIA COM ATENÇÃO AS SEGUINTE INSTRUÇÕES

1. Este caderno contém as questões da **Prova Objetiva**.
2. Use a Folha de Respostas (Versão do Candidato) reproduzida ao final deste caderno apenas para marcar o Gabarito.
3. Ao receber a **Folha de Respostas da Prova Objetiva**:
  - Confira seu nome, número de inscrição e cargo.
  - Assine, **A TINTA**, no espaço próprio indicado.

4. **ATENÇÃO:** transcreva no espaço apropriado da sua **FOLHA DE RESPOSTAS**, com sua caligrafia usual, mantendo as letras maiúsculas e minúsculas, desconsiderando aspas e autoria, a seguinte frase:

**“Só é lutador quem sabe lutar consigo mesmo.” Carlos Drummond de Andrade**

### ATENÇÃO:

**FOLHA DE RESPOSTAS SEM ASSINATURA NÃO TEM VALIDADE.**

5. Ao transferir as respostas para a **Folha de Respostas**:

A B C D

01

• use apenas caneta esferográfica azul ou preta.

02

• preencha, sem forçar o papel, toda a área reservada à letra correspondente à resposta solicitada em cada questão.

03

• assinale somente **uma** alternativa em cada questão.

04

Sua resposta **NÃO** será computada se houver marcação de mais de uma alternativa, questões não assinaladas ou rasuras.

### NÃO DEIXE NENHUMA QUESTÃO SEM RESPOSTA.

A **Folha de Respostas** não deve ser dobrada, amassada ou rasurada.

**ATENÇÃO:** Deverá ser resguardado o Período de Sigilo, não sendo permitido ao candidato se ausentar em definitivo da sala de provas antes de decorrida 1 (uma) hora do início das provas. Os candidatos não poderão utilizar, em hipótese alguma, lápis, lapiseira, corretivos, borracha ou outro material distinto do constante em Edital. Quaisquer acessórios como óculos escuros, boné, chapéu, gorro, lenço ou similares não terão seu uso permitido. As instruções constantes no Caderno de Questões e na Folha de Resposta, bem como as orientações e instruções expedidas pela FUNDEP durante a realização das provas, complementam o Edital e deverão ser rigorosamente observadas e seguidas pelo candidato. Será proibida, durante a realização das provas, qualquer espécie de consulta ou comunicação entre os candidatos ou entre estes e pessoas estranhas, oralmente ou por escrito, assim como não será permitido o uso de livros, códigos, manuais, impressos, anotações ou quaisquer outros meios. Será proibido, durante a realização das provas, fazer uso ou portar, mesmo que desligados, telefone celular, relógios, pagers, beep, agenda eletrônica, calculadora, walkman, notebook, palmtop, gravador, transmissor/receptor de mensagens de qualquer tipo ou qualquer outro equipamento eletrônico. Findo o horário-limite para a realização da prova, o candidato deverá entregar a Folha de Respostas da Prova Objetiva, devidamente preenchida e assinada, ao Aplicador de Sala, assim como o Caderno de Provas. Os três últimos candidatos deverão permanecer na sala até que o último candidato termine sua prova, devendo todos assinar a Ata de Ocorrências da sala, atestando a idoneidade da fiscalização das provas, retirando-se da sala de prova de uma só vez.

O Caderno de Questões e o Gabarito das Provas Objetivas serão divulgados no endereço eletrônico  
<[www.gestaodeconcursos.com.br](http://www.gestaodeconcursos.com.br)> no dia útil subsequente à data de realização da prova.

**DURAÇÃO MÁXIMA DA PROVA: 3 (TRÊS) HORAS**

**fundep**  
concursos

# ATENÇÃO

Sr.(a) Candidato(a),

Antes de começar a fazer a prova, confira se este caderno contém, ao todo, **25 (vinte e cinco)** questões de múltipla escolha, cada uma constituída de 4 (quatro) alternativas de respostas, assim distribuídas: 10 (dez) questões de **Língua Portuguesa**, 10 (dez) questões de **Matemática** e 5 (cinco) questões de **Conhecimentos Gerais**, todas perfeitamente legíveis.

Havendo algum problema, informe **imediatamente** ao aplicador de provas para que ele tome as providências necessárias.

Caso não observe essa recomendação, não lhe caberá qualquer reclamação ou recursos posteriores.

**INSTRUÇÃO:** Leia o texto I a seguir para responder às questões de 1 a 4.

**TEXTO I**



Disponível em: <https://bityli.com/kQKScq>. Acesso em: 9 jun. 2022.

### QUESTÃO 1

Releia este trecho: “A gente sabe **mais** sobre celebridades e personalidades **do que** sobre nossos vizinhos!”.

Observe as palavras em destaque e assinale a alternativa que evidencia a relação que elas estabelecem nessa frase.

- A) Causa
- B) Condição
- C) Proporção
- D) Comparação

### QUESTÃO 2

Assinale a alternativa que apresenta uma frase exclamativa.

- A) Já reparou o quanto de nossas conversas é sobre filmes e programas de televisão?
- B) A gente sabe mais sobre celebridades e personalidades do que sobre nossos vizinhos!
- C) Deve ser por isso que não fazem mais casas com varandas na frente.
- D) Eu não acredito que papai não me deixa ter uma televisão no meu quarto.

### QUESTÃO 3

A tirinha é uma sequência de quadrinhos que traz humor e geralmente faz uma crítica aos valores sociais.

Sabendo disso, é correto afirmar que o humor dessa tirinha deve-se

- A) ao fato de Calvin (o menino) não ter vizinhos para conversar.
- B) à justificativa dada pelo Haroldo (o tigre) no último quadrinho.
- C) ao fato de Calvin e Haroldo só conversarem sobre a vida das pessoas da televisão.
- D) à quebra de expectativa do último quadrinho, dada pela fala de Calvin (o menino), dizendo que quer ter uma televisão em seu quarto.

### QUESTÃO 4

Releia o trecho.

“[...] eventos que nunca **aconteceram** e pessoas [...]”

Assinale a alternativa em que a palavra destacada pertence à mesma classe gramatical de “aconteceram”.

- A) “[...] o quanto das nossas **conversas** [...]”
- B) “[...] a gente **sabe** mais sobre personagens [...]”
- C) “[...] não fazem mais **casas** com varandas [...]”
- D) “[...] o papai **não** me deixa ter uma televisão [...]”

**INSTRUÇÃO:** Leia o texto II a seguir para responder às questões de 5 a 8.

## TEXTO II

### Ministério da Saúde monitora 7 casos suspeitos de varíola dos macacos

*Último caso suspeito foi notificado em São Paulo na segunda-feira (6). Até o momento, nenhum foi confirmado no Brasil.*

O Ministério da Saúde atualizou para sete o número de casos suspeitos de varíola dos macacos. O caso em investigação mais recente foi notificado nesta segunda-feira, 6 de junho, pela Secretaria de Saúde do estado de São Paulo.

Até o momento, o Brasil não possui nenhum caso confirmado da doença. Os estados de Santa Catarina, Ceará, Mato Grosso do Sul, Rio Grande do Sul e São Paulo têm um caso suspeito cada um, e outros dois casos são monitorados em Rondônia.

Segundo a pasta, os pacientes estão “isolados e em recuperação, sendo monitorados pelas equipes de vigilância em saúde. A investigação dos casos está em andamento e será feita coleta para análise laboratorial”.

Disponível em: <https://bityli.com/wNWHtc>.  
Acesso em: 7 jun. 2022.

## QUESTÃO 5

De acordo com o texto II, assinale a alternativa incorreta.

- A) O Brasil possui sete casos confirmados de varíola dos macacos.
- B) O Brasil possui mais de seis casos não confirmados de varíola dos macacos.
- C) Houve uma notificação de caso suspeito de varíola dos macacos neste ano.
- D) Os casos suspeitos estão em isolamento e sendo monitorados pelas equipes de saúde.

## QUESTÃO 6

Esse texto traz uma informação para seus leitores.

Sabendo disso, assinale a alternativa que nomeia adequadamente esse gênero textual.

- A) Artigo de opinião
- B) Carta do leitor
- C) Entrevista
- D) Notícia

## QUESTÃO 7

A palavra “número” é acentuada por ser uma proparoxíttona.

Assinale a alternativa na qual o item destacado possui a mesma regra de acentuação do vocábulo “número”.

- A) “O **Ministério** da Saúde atualizou para sete o número [...]”
- B) “[...] São Paulo **têm** um caso suspeito cada [...]”
- C) “[...] coleta para **análise** laboratorial.”
- D) “[...] pelas equipes de vigilância em **saúde**.”

## QUESTÃO 8

Releia este trecho.

Segundo a pasta, os pacientes estão “isolados e em recuperação, sendo monitorados pelas equipes de vigilância em saúde. A investigação dos casos está em andamento e será feita coleta para análise laboratorial”.

Nesse período, as aspas foram utilizadas para

- A) marcar a opinião do autor.
- B) citar o discurso de outra pessoa.
- C) sinalizar uma expressão que indica ironia.
- D) isolar uma expressão fora de contexto.

**INSTRUÇÃO:** Leia o texto III a seguir para responder às questões 9 e 10.

## TEXTO III

A simplicidade  
do algodão para ferrar  
a alma  
e do veludo para ferrar  
a voz,  
a simplicidade das mãos  
desnudas de todo mal,  
quando num toque  
se reconhecem.  
A simplicidade das flores  
que enchem o ar  
de beleza e pintam  
nosso olhar.  
A simplicidade da vida  
quando apenas  
o essencial.

Disponível em: <https://bityli.com/pJLLlb>.  
Acesso em: 9 jun. 2022.

## QUESTÃO 9

Releia este trecho.

“[...] a simplicidade das mãos / desnudas de todo mal [...]”.

A palavra “desnudas” significa

- A) despidas.
- B) desfiguradas.
- C) desbotadas.
- D) desoneradas.

## QUESTÃO 10

Releia este trecho.

“A simplicidade das flores / que enchem o ar / de beleza e pintam / nosso olhar.”

Nesse período acima há

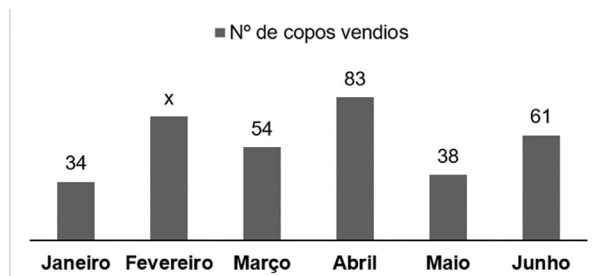
- A) uma oração.
- B) duas orações.
- C) três orações.
- D) quatro orações.

## MATEMÁTICA

### QUESTÃO 11

Gustavo vende copos personalizados. Ele construiu o gráfico a seguir para representar a quantidade de copos vendidos por ele no 1º semestre.

#### Venda de copos personalizados no 1º semestre



Cada copo é vendido por R\$ 28,00 e o valor arrecadado com a venda no 1º semestre foi de R\$ 9.576,00.

Com os dados apresentados nesse gráfico, é correto afirmar que no mês de fevereiro Gustavo vendeu

- A) 38 copos personalizados.
- B) 54 copos personalizados.
- C) 61 copos personalizados.
- D) 72 copos personalizados.

### QUESTÃO 12

As “fake news” ou “notícias falsas” estão cada vez mais presentes na vida dos brasileiros, principalmente nos aplicativos de mensagens. Para ajudar a população a não cair nessas fake news, um grupo de pesquisadores da USP e da Universidade Federal de São Carlos (UFSCar) criou uma ferramenta capaz de identificar e reconhecer as características de textos mentirosos e de textos verdadeiros.

A tabela a seguir mostra o número de textos analisados pela ferramenta, separados por categorias, e a porcentagem de textos falso identificados:

Categoria	Número de textos analisados	Porcentagem de Fake News
Política	4.180	50%
TV e Celebidades	1.540	20%
Sociedade e Cotidiano	1.270	10%
Ciência e Tecnologia	100	1%

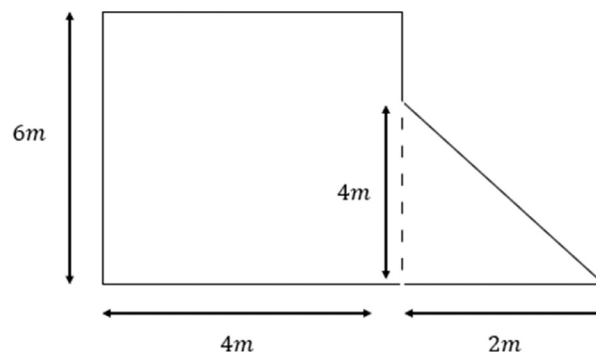
Disponível em: <https://www.icmc.usp.br/noticias/3956-ferramenta-para-detectar-fake-news-e-desenvolvida-pela-usp-e-pela-ufscar>. Acesso em: 21 mar. 2022 (adaptado).

O número de texto falsos da categoria “Sociedade e Cotidiano” é:

- A) 2.090
- B) 1.150
- C) 127
- D) 100

### QUESTÃO 13

Maria vai revestir o piso da varanda de sua casa com cerâmica. O desenho a seguir representa a planta da varanda da casa de Maria.



A quantidade de cerâmica que Maria deverá comprar, em metros quadrados, será:

- A) 28
- B) 26
- C) 24
- D) 20

### QUESTÃO 14

A tabela a seguir mostra alguns voos disponíveis de Belo Horizonte para Fortaleza em um determinado dia no aeroporto de Confins (Belo Horizonte).

Companhia aérea	Horário de saída	Horário de chegada
Amarela	17:30	20:30
Branca	17:40	20:20
Verde	17:51	20:21
Vermelha	18:00	20:35

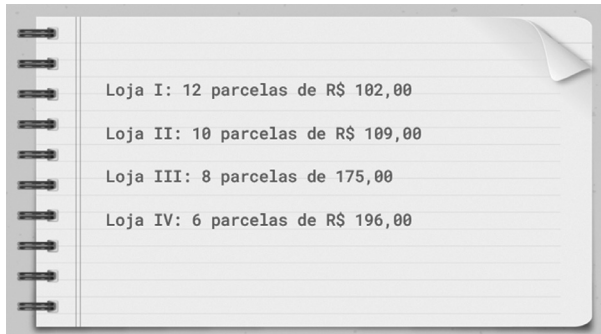
Antônio mora em Belo Horizonte e tem um compromisso urgente em Fortaleza, por isso ele precisa pegar o voo com o tempo mais curto de viagem.

Sabendo disso, a companhia aérea escolhida por Antônio foi a

- A) Amarela.
- B) Branca.
- C) Verde.
- D) Vermelha.

### QUESTÃO 15

Ana vai comprar uma televisão em uma loja do bairro onde mora. Para decidir em qual loja comprar, está fazendo uma pesquisa de preços e condições de pagamento. Veja a seguir as anotações feitas por Ana:



Para pagar o menor valor possível na televisão, Ana deverá escolher a Loja

- A) I.
- B) II.
- C) III.
- D) IV.

### QUESTÃO 16

A tabela a seguir apresenta os valores de combustível no posto de gasolina onde Murilo está abastecendo o seu automóvel.

Combustível	Valor por litro
Álcool	R\$ 4,99
Diesel	R\$ 5,55
Gasolina aditivada	R\$ 7,75
Gasolina comum	R\$ 7,45

Após o abastecimento do carro de Murilo, o visor da bomba de combustível tinha a seguinte indicação:



O carro de Murilo foi abastecido com

- A) álcool.
- B) diesel.
- C) gasolina aditivada.
- D) gasolina comum.

### QUESTÃO 17

Eduardo fez uma viagem de ônibus, de Belo Horizonte a João Monlevade, que durou 3 horas e 30 minutos.

Se Eduardo saiu de Belo Horizonte às 8h45min, ele chegou a João Monlevade às

- A) 11h25min.
- B) 11h30min.
- C) 12h15min.
- D) 12h25min.

### QUESTÃO 18

Em uma praia, o guia turístico Matheus oferece passeios de barco. O barco tem capacidade para 8 pessoas. Cada pessoa paga R\$ 18,50 pelo passeio.

Qual valor Matheus irá receber se fizer 15 passeios com lotação máxima do barco?

- A) R\$ 2.220,00
- B) R\$ 1.776,00
- C) R\$ 1.480,00
- D) R\$ 1.332,00

### QUESTÃO 19

Felipe participou de um campeonato de natação no qual deveria nadar 24 metros. Ele teve um problema durante a prova e percorreu apenas  $\frac{1}{3}$  do percurso total.

Isso significa que ele percorreu

- A) 8 metros.
- B) 16 metros.
- C) 24 metros.
- D) 72 metros.

### QUESTÃO 20

Os irmãos Danilo e Daniel estão comendo uma pizza de oito fatias iguais. Danilo comeu dois pedaços e Daniel quatro.

A fração da pizza comida pelos irmãos foi de:

- A)  $\frac{1}{4}$
- B)  $\frac{1}{2}$
- C)  $\frac{3}{4}$
- D)  $\frac{7}{8}$

## CONHECIMENTOS GERAIS

### QUESTÃO 21

No setor econômico, a agropecuária é destaque de Bom Sucesso, e tem como principal produto a(o)

- A) café.
- B) carne suína.
- C) milho.
- D) produção leiteira.

### QUESTÃO 22

Analise a imagem a seguir da campanha da Prefeitura de Bom Sucesso contra a dengue.



[...] A participação da população é imprescindível: em nosso município todos os focos do Aedes Aegypti foram encontrados dentro das residências.

Disponível em: <https://bomsucesso.mg.gov.br/alerta-sobre-a-importancia-do-combate-a-dengue/>. Acesso em: 14 fev. 2022.

Para a Prefeitura Municipal de Bom Sucesso, a participação da população no combate à dengue é importante porque

- A) a ação coletiva das pessoas diminui gastos municipais com a campanha.
- B) a participação da população em campanhas sanitárias sempre é efetiva.
- C) o envolvimento de todas as pessoas incentiva a solidariedade local.
- D) os locais de reprodução do mosquito eram as casas das pessoas.

### QUESTÃO 23

O atual distrito de Macaia, que margeia uma das principais atrações turísticas da região, a Represa do Funil, foi erguido em 2002 para

- A) dar suporte ao turismo desenvolvido na praia de água doce da represa.
- B) honrar, com a barqueada, o local onde foi encontrada a imagem da padroeira do Brasil.
- C) sediar as atividades artísticas do município, lideradas pela Banda de Macaia.
- D) substituir o antigo distrito que foi inundado pelas águas da represa.

### QUESTÃO 24

**Município de Bom Sucesso passou a contar com uma usina de recicláveis e compostagem**

Disponível em: <https://www.amparensenews.com/noticia/862/municipio-de-boom-sucesso-passou-a-contar-com-uma-usina-de-reciclaveis-e-compostagem>. Acesso em: 3 mar. 2022.

A compostagem do lixo é o processo que permite

- A) beneficiar resíduos sólidos secos recicláveis.
- B) incinerar o lixo para tornar o ambiente mais saudável.
- C) reciclar lixo orgânico para a produção de adubo.
- D) transferir o lixo coletado para o aterro sanitário.

### QUESTÃO 25

Desde a infância, o brasileiro precisa ter algum documento que o identifique como cidadão. Cada documento tem uma finalidade na vida, seja para declarar Imposto de Renda, trabalhar, votar, dirigir ou viajar.

Disponível em: <https://economia.uol.com.br/noticias/redacao/2022/03/21/rg-cpf-cnh-e-outros-para-que-serve-cada-documento-no-brasil.htm?cmpid=copiaecola>. Acesso em: 21 mar. 2022.

O documento que é utilizado para identificar os contribuintes junto ao Imposto de Renda é:

- A) CNH (Carteira Nacional de Habilitação).
- B) CPF (Cadastro de Pessoa Física).
- C) CTPS (Carteira de Trabalho e Previdência Social).
- D) RG (Registro Geral).





# FOLHA DE RESPOSTAS (VERSÃO DO CANDIDATO)

1	A	B	C	D	14	A	B	C	D
	<input type="checkbox"/>	<input type="checkbox"/>	<input type="checkbox"/>	<input type="checkbox"/>		<input type="checkbox"/>	<input type="checkbox"/>	<input type="checkbox"/>	<input type="checkbox"/>
2	A	B	C	D	15	A	B	C	D
	<input type="checkbox"/>	<input type="checkbox"/>	<input type="checkbox"/>	<input type="checkbox"/>		<input type="checkbox"/>	<input type="checkbox"/>	<input type="checkbox"/>	<input type="checkbox"/>
3	A	B	C	D	16	A	B	C	D
	<input type="checkbox"/>	<input type="checkbox"/>	<input type="checkbox"/>	<input type="checkbox"/>		<input type="checkbox"/>	<input type="checkbox"/>	<input type="checkbox"/>	<input type="checkbox"/>
4	A	B	C	D	17	A	B	C	D
	<input type="checkbox"/>	<input type="checkbox"/>	<input type="checkbox"/>	<input type="checkbox"/>		<input type="checkbox"/>	<input type="checkbox"/>	<input type="checkbox"/>	<input type="checkbox"/>
5	A	B	C	D	18	A	B	C	D
	<input type="checkbox"/>	<input type="checkbox"/>	<input type="checkbox"/>	<input type="checkbox"/>		<input type="checkbox"/>	<input type="checkbox"/>	<input type="checkbox"/>	<input type="checkbox"/>
6	A	B	C	D	19	A	B	C	D
	<input type="checkbox"/>	<input type="checkbox"/>	<input type="checkbox"/>	<input type="checkbox"/>		<input type="checkbox"/>	<input type="checkbox"/>	<input type="checkbox"/>	<input type="checkbox"/>
7	A	B	C	D	20	A	B	C	D
	<input type="checkbox"/>	<input type="checkbox"/>	<input type="checkbox"/>	<input type="checkbox"/>		<input type="checkbox"/>	<input type="checkbox"/>	<input type="checkbox"/>	<input type="checkbox"/>
8	A	B	C	D	21	A	B	C	D
	<input type="checkbox"/>	<input type="checkbox"/>	<input type="checkbox"/>	<input type="checkbox"/>		<input type="checkbox"/>	<input type="checkbox"/>	<input type="checkbox"/>	<input type="checkbox"/>
9	A	B	C	D	22	A	B	C	D
	<input type="checkbox"/>	<input type="checkbox"/>	<input type="checkbox"/>	<input type="checkbox"/>		<input type="checkbox"/>	<input type="checkbox"/>	<input type="checkbox"/>	<input type="checkbox"/>
10	A	B	C	D	23	A	B	C	D
	<input type="checkbox"/>	<input type="checkbox"/>	<input type="checkbox"/>	<input type="checkbox"/>		<input type="checkbox"/>	<input type="checkbox"/>	<input type="checkbox"/>	<input type="checkbox"/>
11	A	B	C	D	24	A	B	C	D
	<input type="checkbox"/>	<input type="checkbox"/>	<input type="checkbox"/>	<input type="checkbox"/>		<input type="checkbox"/>	<input type="checkbox"/>	<input type="checkbox"/>	<input type="checkbox"/>
12	A	B	C	D	25	A	B	C	D
	<input type="checkbox"/>	<input type="checkbox"/>	<input type="checkbox"/>	<input type="checkbox"/>		<input type="checkbox"/>	<input type="checkbox"/>	<input type="checkbox"/>	<input type="checkbox"/>
13	A	B	C	D					
	<input type="checkbox"/>	<input type="checkbox"/>	<input type="checkbox"/>	<input type="checkbox"/>					

AO TRANSFERIR ESSAS MARCAÇÕES PARA A FOLHA DE RESPOSTAS,  
OBSERVE AS INSTRUÇÕES ESPECÍFICAS DADAS NA CAPA DA PROVA.

**USE CANETA ESFEROGRÁFICA AZUL OU PRETA.**

**ATENÇÃO:  
AGUARDE AUTORIZAÇÃO  
PARA VIRAR O CADERNO DE PROVA.**